

TUTORATO ANALISI I - 10/11/23

QUALCHE RICHIAMO SULLE SIMMETRIE nel caso di GRAFICI e FUNZIONI

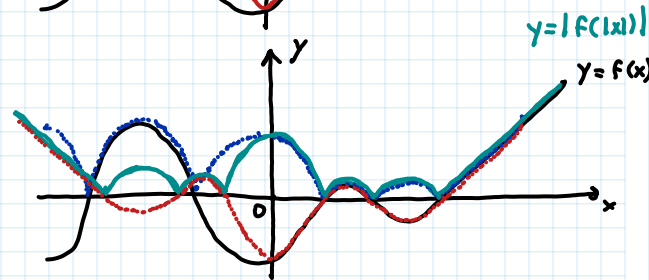
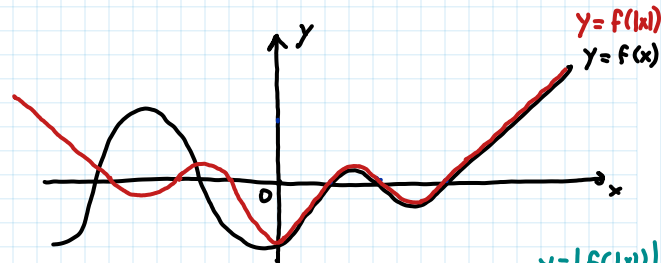
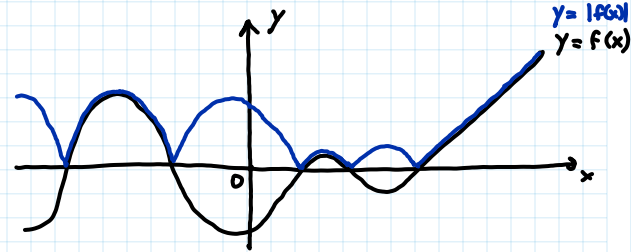
1) Consideriamo una funzione $y = f(x)$.

Allora il grafico di:

• $y = |f(x)|$ si ottiene simmetrizzando rispetto all'asse x la parte di grafico $y = f(x)$ con $y < 0$ (in **BLU**)

• $y = f(|x|)$ si ottiene simmetrizzando rispetto all'asse y la parte di grafico $y = f(x)$ con $x < 0$ (in **ROSSO**)
È una funzione **PARI**!

• $y = |f(|x|)|$ si ottiene combinando le precedenti (in **VERDE**)



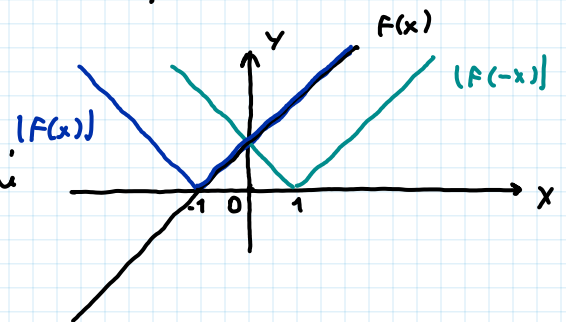
2) $y = |f(x)|$ in generale NON è una funzione PARI:

Es. $f(x) = x + 1$

$$|f(x)| = |x + 1| \quad \text{blu}$$

$$|f(-x)| = |-x + 1| \quad \text{verde}$$

sono funzioni diverse



3) $y = f(|x|)$ in generale NON è una funzione ≥ 0 :

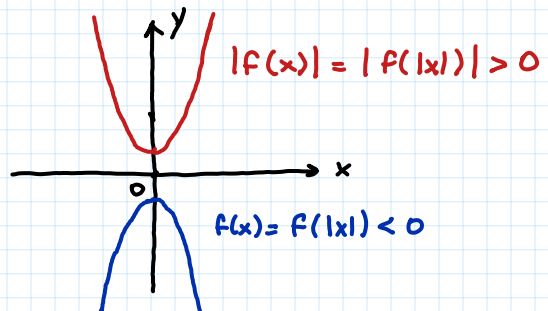
Es. $f(x) = -x^2 - 1$

$$f(|x|) = -x^2 - 1 < 0$$

(in blu)

$$y = |f(x)| = |f(|x|)|$$

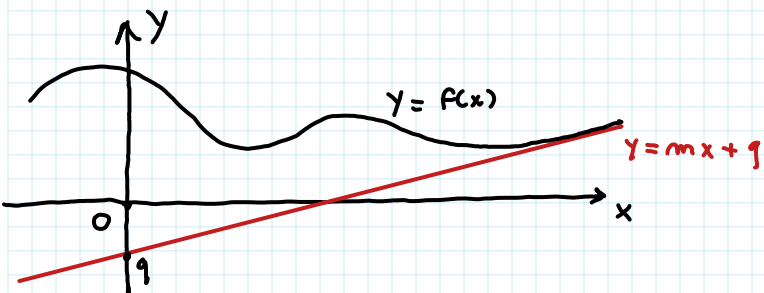
invece è sempre ≥ 0 :
(in rosso)



CONSIDERAZIONI SUGLI ASINTOTI OBLIQUI

Dato una funzione $y = f(x)$, la retta $y = mx + q$ è un asintoto

destro/sinistro per $f(x)$ se $\lim_{x \rightarrow \pm\infty} (f(x) - (mx + q)) = 0$



La funzione $f(x)$ si avvicina sempre più alla retta $y = mx + q$ quando $x \rightarrow +\infty$

$m = 0$ (cioè $\lim_{x \rightarrow \pm\infty} f(x) = -q$) ASINTOTO ORIZZONTALE
 $m \neq 0$ ASINTOTO OBLIQUO

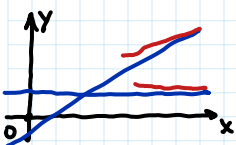
Come riconosco?

Se $\lim_{x \rightarrow \pm\infty} \frac{f(x)}{x} = m \neq 0$ FINITO,

allora $f(x)$ ammette asintoto obliquo $y = mx + q$,
dove $q = \lim_{x \rightarrow \pm\infty} (f(x) - mx)$.

ATTENZIONE!

Se $f(x)$ ammette un asintoto orizzontale (dx/sx), non può ammettere un asintoto obliquo (nella stessa direzione).



[In effetti $\lim_{x \rightarrow +\infty} f(x) = a \Rightarrow \lim_{x \rightarrow +\infty} \frac{f(x)}{x} = 0$]

Riconoscere "al volo" se ci sono asintoti obliqui: per $x \rightarrow \pm\infty$ quando i termini «dominanti»:

• $f(x) = \frac{x^3 - 3}{x^2 + 5x}$, $\lim_{x \rightarrow +\infty} \frac{f(x)}{x} = \lim_{x \rightarrow +\infty} \frac{x^3}{x^3} = 1$ ammette asintoto obliquo

• $f(x) = \frac{2x}{x^4 - 5}$, $\lim_{x \rightarrow +\infty} \frac{f(x)}{x} = \lim_{x \rightarrow +\infty} \frac{2x}{x^4} = 0$ NON ammette asintoto obliquo

• $f(x) = \frac{e^{3x}}{14x \log x}$ NON ammette asintoto obliquo: e^x infinito di ordine superiore a $x^\alpha \log x$ per ogni $\alpha > 0$

STUDIO DI FUNZIONE: Riprendiamo l'esercizio dell'ultima volta [08/11]

$$f(x) = \left| \arctan\left(\frac{x^2-4}{x^2-9}\right) \right| \quad \rightarrow x \neq \pm 3$$

6) DERIVATA.

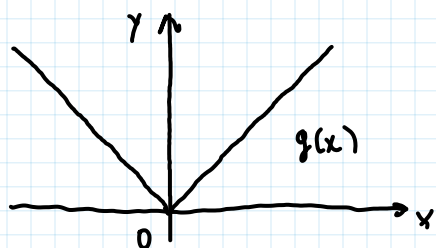
Guardo tutte le funzioni che «composte tra loro» costituiscono la nostra funzione $f(x)$:

- $\frac{x^2-4}{x^2-9}$, per $x \neq \pm 3$ è continua e derivabile ✓
- $\arctan(x)$ è continua e derivabile (su tutto \mathbb{R}) ✓
- $|x|$ è continua su tutto \mathbb{R} ed è derivabile SOLO su $\mathbb{R} - \{0\}$ ✗

Analizziamo quindi il caso $|\dots| = 0$, che è l'unico che potrebbe «dare problemi» con la derivabilità.

Recap: NON DERIVABILITÀ in 0 di $y = |x|$.

$g(x) = |x|$ non è derivabile nel punto $x_0 = 0$

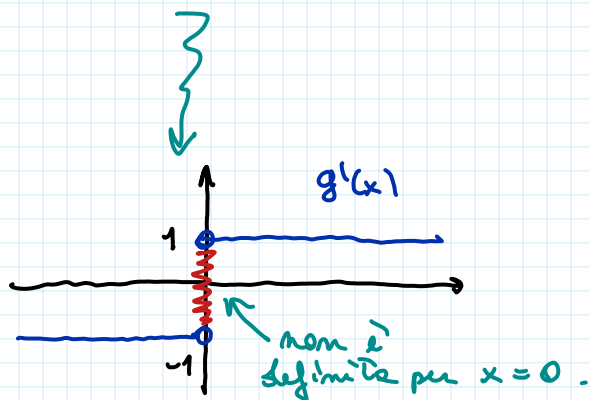


$$\lim_{h \rightarrow 0} \frac{g(x_0+h) - g(x_0)}{h} =$$

$$\lim_{h \rightarrow 0} \frac{|0+h| - |0|}{h} = \lim_{h \rightarrow 0} \frac{|h|}{h} \text{ non esiste}$$

$$\lim_{h \rightarrow 0^+} \frac{|h|}{h} = \lim_{h \rightarrow 0^+} \frac{h}{h} = 1$$

$$\lim_{h \rightarrow 0^-} \frac{|h|}{h} = \lim_{h \rightarrow 0^-} \frac{-h}{h} = -1$$



$f(x) = \left| \arctan\left(\frac{x^2-4}{x^2-9}\right) \right|$: abbiamo problemi con la derivabilità quando $\arctan\left(\frac{x^2-4}{x^2-9}\right) = 0$, cioè quando $x = \pm 2$.

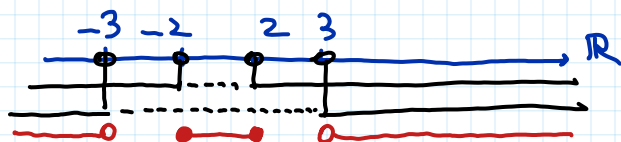
Se invece $x_0 \in D$, $x_0 \neq \pm 2$, allora $f(x)$ è derivabile in x_0 .

Se $x \neq \pm 2$, $f(x) > 0$, studiamo la derivata:

$$f(x) = |t| = \begin{cases} t, & t \geq 0 \\ -t, & t < 0 \end{cases}$$

$$f(x) = \left| \operatorname{arctan}\left(\frac{x^2-4}{x^2-9}\right) \right| = \begin{cases} \operatorname{arctan}\left(\frac{x^2-4}{x^2-9}\right), & \text{se } \operatorname{arctan}\left(\frac{x^2-4}{x^2-9}\right) \geq 0 \\ -\operatorname{arctan}\left(\frac{x^2-4}{x^2-9}\right), & \text{se } \operatorname{arctan}\left(\frac{x^2-4}{x^2-9}\right) < 0 \end{cases}$$

$$\operatorname{arctan}\left(\frac{x^2-4}{x^2-9}\right) \geq 0 \Leftrightarrow \frac{x^2-4}{x^2-9} \geq 0$$



$$\Leftrightarrow x < -3 \vee -2 \leq x \leq 2 \vee x > 3$$

$$f(x) = \begin{cases} \operatorname{arctan}\left(\frac{x^2-4}{x^2-9}\right), & x < -3 \vee -2 \leq x \leq 2 \vee x > 3 \\ -\operatorname{arctan}\left(\frac{x^2-4}{x^2-9}\right), & -3 < x < -2 \vee 2 < x < 3 \end{cases}$$

$f'(x)$ può essere calcolata derivando le due funzioni SOLO per gli $x \in D$ t.c. $x \neq \pm 2$

verrà esclusi nel calcolo di $f'(x)$

$$\left(\arctan\left(\frac{x^2-4}{x^2-9}\right) \right)' = \frac{1}{1 + \left(\frac{x^2-4}{x^2-9}\right)^2} \left(\frac{x^2-4}{x^2-9}\right)' =$$

$$= \frac{1}{1 + \left(\frac{x^2-4}{x^2-9}\right)^2} \left(\frac{x^2-9 + 5}{x^2-9}\right)' = \frac{x^2-4}{x^2-9} = \frac{x^2-9 + 9-4}{x^2-9} = 1 + \frac{5}{x^2-9}$$

$$= \frac{1}{1 + \left(\frac{x^2-4}{x^2-9}\right)^2} \left(1 + \frac{5}{x^2-9}\right)' =$$

Questo tipo di semplificazione risulterà molto utile in futuro (ad esempio nel calcolo di integrali), conviene abituarci!

$$= \frac{1}{1 + \left(\frac{x^2-4}{x^2-9}\right)^2} \left(5 \left(\frac{1}{x^2-9}\right)'\right) =$$

$$= \frac{5}{1 + \frac{(x^2-4)^2}{(x^2-9)^2}} \cdot \frac{-2x}{(x^2-9)^2} =$$

Recap

$$\left(\frac{1}{f(x)}\right)' = -\frac{f'(x)}{(f(x))^2}$$

$$= \frac{-5(2x)}{(x^2-9)^2 + (x^2-4)^2} = \frac{-10x}{(x^2-9)^2 + (x^2-4)^2}$$

ho tolto l' = .

$$f'(x) = \begin{cases} \frac{-10x}{(x^2-9)^2 + (x^2-4)^2}, & x < -3 \vee -2 < x < 2 \vee x > 3 \\ \frac{10x}{(x^2-9)^2 + (x^2-4)^2}, & -3 < x < -2 \vee 2 < x < 3 \end{cases}$$

Studiamo la derivabilità nel caso $x_0 = \pm 2$.

Per simmetria (parità di arco $\frac{x^2-4}{x^2-9}$) basta solo $x_0 = 2$.

Vogliamo vedere se esiste il limite del rapporto incrementale* per $x_0 = 2$

* (guardare la fine della pag. successiva)

$$\lim_{h \rightarrow 0} \frac{f(x_0+h) - f(x_0)}{h} = \lim_{x \rightarrow x_0} \frac{f(x) - f(x_0)}{x - x_0} =$$

combinazione di variabile
 $x = x_0 + h$
 $\quad \quad \quad \downarrow$
 $\quad \quad \quad \rightarrow 0$

$$= \lim_{x \rightarrow 2} \frac{f(x) - \overset{=0}{f(2)}}{x - 2} = \lim_{x \rightarrow 2} \frac{f(x)}{x - 2} =$$

$$= \lim_{x \rightarrow 2} \frac{\left| \text{arco} \left(\frac{x^2-4}{x^2-9} \right) \right|}{x - 2} \quad \text{per vedere se esiste, analizziamo dx e sx.}$$

$$\lim_{x \rightarrow 2^+} \left| \frac{\text{arco} \left(\frac{(x-2)(x+2)}{x^2-9} \right)}{x-2} \right| = \lim_{x \rightarrow 2^+} \left| \frac{\text{arco} \left(\frac{(x-2)(x+2)}{x^2-9} \right)}{x-2} \right| =$$

$x > 2 \Rightarrow x - 2 > 0 \Rightarrow |x - 2| = x - 2$

$$= \lim_{h \rightarrow 0^+} \left| \frac{\text{arco} \left(\frac{h(h+4)}{(h+2)^2-9} \right)}{h} \right| =$$

Torno alla variabile h (sembra più comoda per ricondursi a limiti notevoli)

$$= \lim_{h \rightarrow 0^+} \left| \frac{\text{arco} \left(\frac{h(h+4)}{(h+2)^2-9} \right)}{h(h+4) / ((h+2)^2-9)} \cdot \frac{h+4}{(h+2)^2-9} \right| =$$

voglio ricondurre al limite notevole
 $\lim_{y \rightarrow 0} \frac{\text{arco}(y)}{y} = 1$

la funzione $|x|$ è continua \Rightarrow il limite "passe dentro"

$$= \left| \lim_{h \rightarrow 0^+} \frac{\text{ord} \left(\frac{h(h+4)}{(h+2)^2-9} \right) \cdot \frac{h+4}{(h+2)^2-9}}{\frac{h(h+4)}{(h+2)^2-9}} \right| =$$

$$\lim_{y \rightarrow 0} \frac{\text{ord}(y)}{y} = 1$$

con $y = \frac{h(h+4)}{(h+2)^2-9} \xrightarrow{h \rightarrow 0} 0$

$$= \left| \lim_{h \rightarrow 0^+} \frac{h+4}{(h+2)^2-9} \right| = \frac{4}{5}$$

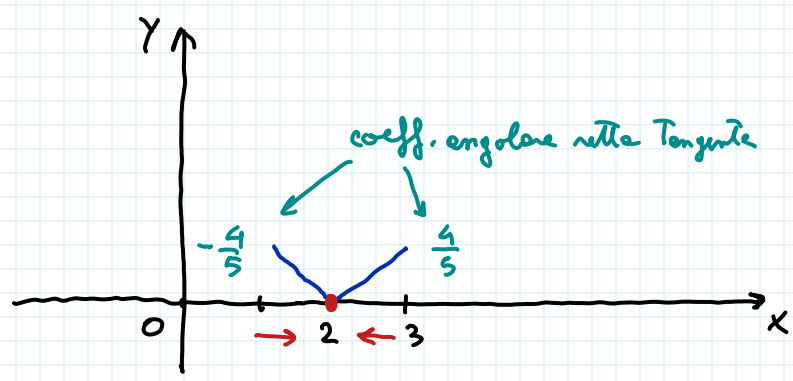
$$\lim_{x \rightarrow 2^-} \frac{f(x) - f(2)}{x - 2} = -\frac{4}{5}, \text{ infatti:}$$

$$\lim_{x \rightarrow 2^-} \frac{\left| \text{ord} \frac{x^2-4}{x^2-9} \right|}{x-2} = \lim_{x \rightarrow 2^-} \frac{\left| \text{ord} \frac{x^2-4}{x^2-9} \right|}{\ominus |x-2|} =$$

$$x-2 < 0 \Rightarrow |x-2| = -(x-2) \Rightarrow x-2 = -|x-2|$$

$$\ominus \lim_{x \rightarrow 2^-} \frac{\left| \text{ord} \left(\frac{x^2-4}{x^2-9} \right) \right|}{x-2} = -\frac{4}{5}$$

quello di prima



La funzione $f(x)$ non è derivabile nel punto $x_0 = 2$.

$x_0 = 2$ è un PUNTO ANGOLOSO

*** EXTRA** Potremmo verificarlo calcolando direttamente $\lim_{x \rightarrow 2^\pm} f'(x)$ con l'espressione trovata prima? In questo caso SÌ (ma in generale NO), lo vedremo la prossima volta.

Studiamo i punti di max e min di f .

- Abbiamo già visto che $f(\pm 2) = 0$ e $f(x) \geq 0 \forall x \in \mathbb{D}$, quindi ± 2 sono punti di minimo di $f(x)$.

Se $x \in \mathbb{D}$, $x \neq \pm 2$, è un punto di max/min di f , allora $f'(x) = 0$

$$f'(x) = \begin{cases} \frac{-10x}{(x^2-9)^2 + (x^2-4)^2}, & x < -3 \vee -2 < x < 2 \vee x > 3 \\ \frac{10x}{(x^2-9)^2 + (x^2-4)^2}, & -3 < x < -2 \vee 2 < x < 3 \end{cases}$$

$$f'(x) = 0 \Leftrightarrow \frac{\pm 10x}{(x^2-9)^2 + (x^2-4)^2} = 0 \Leftrightarrow x = 0 \quad \left(f(0) = \text{ordina } \frac{4}{9} \right)$$

↑ è un PUNTO CRITICO

Segno di $f'(x)$: $(x^2-9)^2 + (x^2-4)^2 > 0$

somma di quantità
non negative
che non si annullano
contemporaneamente

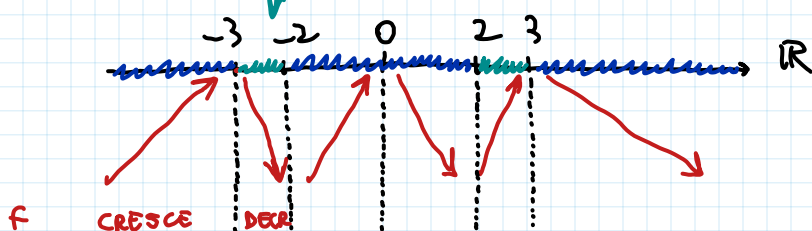
$f'(x) > 0$: • Se $x \in (-\infty, -3) \cup (-2, 2) \cup (3, +\infty)$

$$f'(x) > 0 \Leftrightarrow \frac{-10x}{(x^2-9)^2 + (x^2-4)^2} > 0 \Leftrightarrow x < 0$$

(F crescente)

• Se $x \in (-3, -2) \cup (2, 3)$

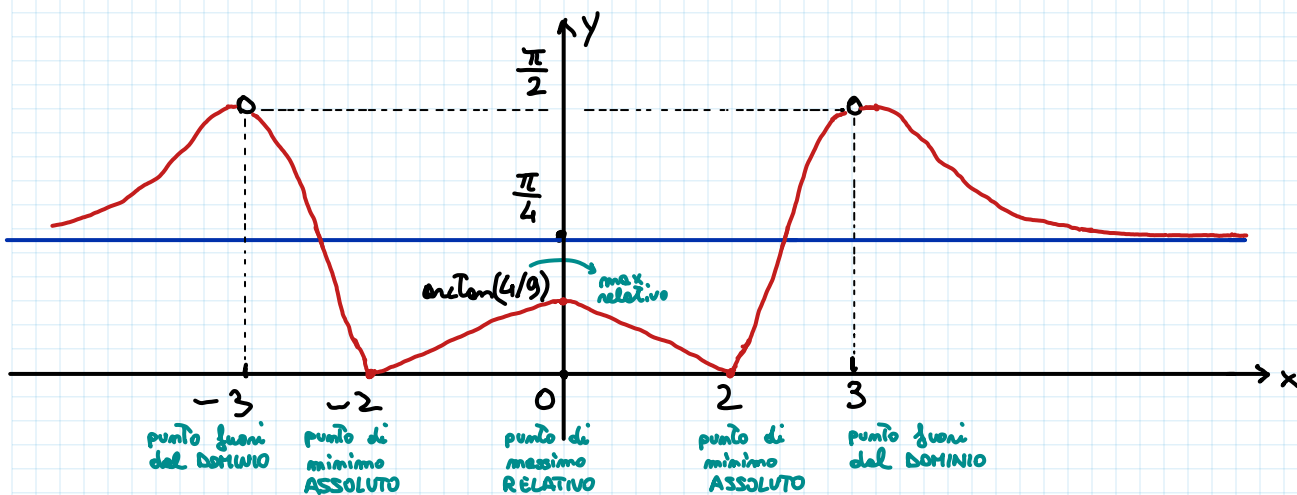
$$f'(x) = \frac{10x}{(x^2-9)^2 + (x^2-4)^2} > 0 \Leftrightarrow x > 0$$



- ± 2 punti di minimo (già lo sappiamo)

- 0 punto di massimo (relativo)

Ripetiamo graficamente quanto appena visto combinandolo con quanto già visto:



Resta solo da studiare la CONVESSITA': studio di $f''(x)$.